

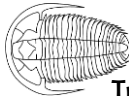













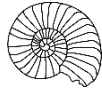










RIORDINIAMO LA STRATIGRAFIA

Questi strati si sono mischiati! Riesci a riordinarli dal più recente al più antico? Attenzione! Guarda bene tutti i fossili per capire quale strato viene prima e quale viene dopo. Alcuni fossili compaiono più volte perché non si sono mai estinti!

A	Ammonite  Strato più antico	Insetti 	Trilobiti 	Felce 	Dimetrodon 
B	Cavalli 	Felce 	<i>Homo Sapiens</i> 	Uccelli 	Insetti 
C	Ittiosauri 	Insetti 	Felce 	Ammonite 	Pesci ossei 
D	Felce 	Ammonite 	Insetti 	Dinosauri 	Pterosauri 
E	Insetti 	<i>Homo Neanderthalensis</i> 	Mammuth 	Uccelli 	Felce 

Qual è la sequenza corretta?

Soluzione: dall'alto al basso: B (Olocene), E (Pleistocene), D (Giurassico), C (Triassico), A (Permiano)